

призёр 268.

Искандерова Дилера  
Азизовна


Муниципальный этап всероссийской олимпиады школьников  
Технология (девушки)

За полностью выполненное задание дается 1 балл; если в задании допущена хотя бы одна ошибка или задание не выполнено – 0 баллов. За творческое задание дается 11 баллов. Максимальное количество баллов – 35.

8-9 класс

1. В этом пищевом продукте содержится наибольшее количество:

18



Ответ Б белков

2. Отгадайте загадку:

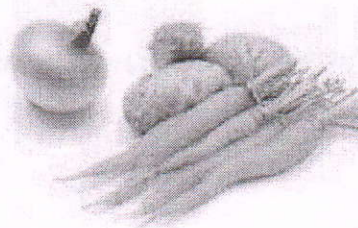
«И зелен, и густ  
На грядке вырос куст.  
Покопай немножко:  
Под кустом...»

18

В рецепт какого супа не входит этот продукт?

Ответ картошка суп - жарго

3. Какие основные ингредиенты необходимы для варки рассольника?



А)

Б)

В)

Г)


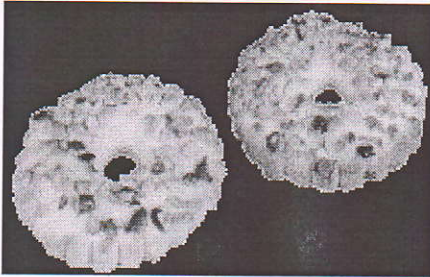


18

Ответ а, в, г

4. Соотнесите вид теста с готовым изделием.




1. Слоеное    2. Дрожжевое    3. Заварное    4. Песочное

 <p>А)</p>	 <p>Б)</p>	 <p>В)</p>
<span style="position: absolute; left: -40px; top: 50px;">16</span>  <p>Г)</p>	<p>Ответ 1 - <u>2</u>    2 - <u>6</u>    3 - <u>А</u>    4 - <u>Г</u></p>	

5. Данная сервировка уместна к ...

- 16
- А) Завтраку
  - Б) Ужину
  - В) Ланчу
  - Г) Обеду



6. Укажите правильную последовательность действий при термическом ожоге первой степени.

- 16
- А) Наложить стерильную повязку
  - Б) Обработать противоожоговыми препаратами
  - В) Обожженный участок кожи подставить под струю холодной воды
  - Г) Обработать специальными антисептическими средствами

Ответ 1 - 6    2 - 2    3 - 8    4 - а



7. Какое средство композиции использовано при оформлении интерьера данной комнаты?



18  
 Ответ симметрия

8. Установите соответствие между представленными на рисунках историческими костюмами, интерьерами и названиями стилей/




A)




Б)



В)



I



II



III

Ответ:

1 Классицизм

Б - I

2 Античный стиль

а = III

3 Готика


в - II

18



9. Декоративная деталь из ткани в верхней части дверных и оконных проёмов называется:

- А) штора  
 Б) карниз  
 В) ламбрекен  
 Г) занавеска  
 Д) ширма



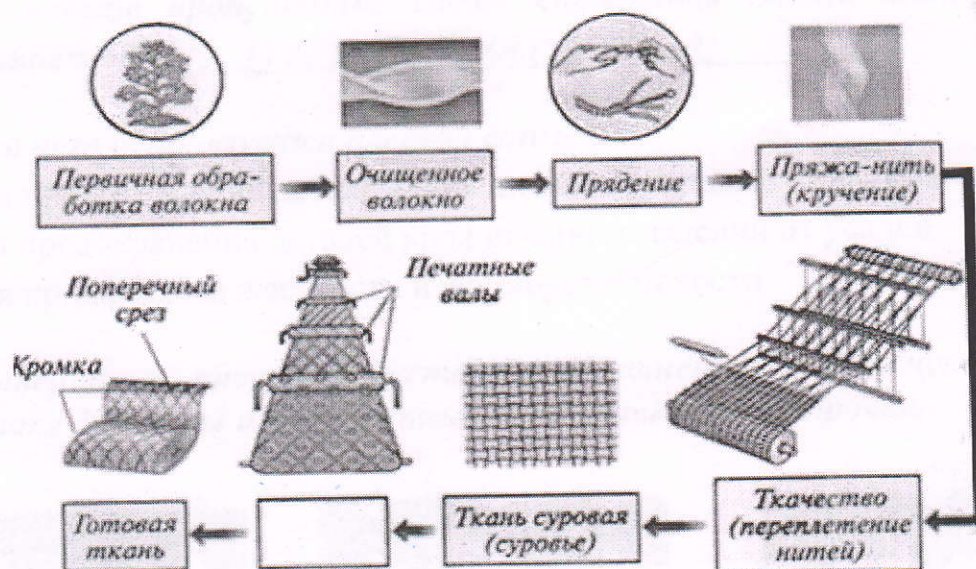
10. К элементам русского народного костюма относятся:

- А) Рубаха  
 Б) Халат  
 В) Кюлоты  
 Г) Сарафан  
 Д) Шушпан  
 Е) Кокошник

11. Современный стиль одежды с использованием элементов национального костюма):

- А) Милитари  
 Б) Кежуэл  
 В) Кантри  
 Г) Ретро

12. На представленной схеме производства ткани отсутствует название одной операции. Назовите эту операцию.



Ответ

шуретка



13. Расположите перечисленные ниже материалы в порядке увеличения прочности волокна:

- 13 А) Хлопок      Б) Лён      В) Шерсть      Г) Шёлк

Ответ 1 - б 2 - а 3 - г 4 - в

14. Установите соответствие символов по уходу за тканями их значениям:

1. Только ручная стирка при температуре максимум 30, не тереть, не отжимать
2. Разрешено гладить при максимальной температуре 200° С
3. Разрешено отжимать в стиральной машине и высушивать электросушилкой
4. Сушить на горизонтальной поверхности
5. Сухая чистка с любым растворителем
6. Разрешена стирка с отбеливателями, содержащими хлор; использовать только холодную воду, следить за полным растворением порошка

А      Б      В      Г      Д      Е



Ответ 1 - в 2 - г 3 - а 4 - б 5 - е 6 - д

15. Вставьте пропущенное слово. Обработка ткани антистатиком уменьшает её электризацию

16. Для чего используется клеевой флизелин?

- 15
- А) Для предохранения деталей кроя швейных изделий от выгорания
  - Б) Для предохранения деталей кроя швейных изделий от усадки
  - В) Для придания им жесткости и формоустойчивости

17. Выберите по рисунку качественно выполненную машинную строчку и назовите дефекты изображенных некачественных строчек.



- А) верхн. затяж.      Б) кот. шов      В) нижн. затяжка

Ответ \_\_\_\_\_



18. Соотнесите номер иглы и вид материала.

- |                   |          |
|-------------------|----------|
| 1) Батист         | A) № 110 |
| 2) Сукно          | Б) № 100 |
| 3) Фланель, ситец | В) № 70  |
| 4) Драп           | Г) № 90  |

Ответ 1 - б 2 - б 3 - з 4 - а

19. Установите соответствие между моделью юбки и её моделированием:

Модель		Моделирование	
1		A)	Б)
2		В)	Г)
3			
4			

18.

Ответ 1 - з 2 - а 3 - б 4 - б

20. Выберите швы для обработки нижнего среза юбки. Напишите их названия.

18.

а б в г д е

шов в  
поршебку  
с закр. шв.  
шов в поршебку  
с откр. срезом.

Ответ \_\_\_\_\_



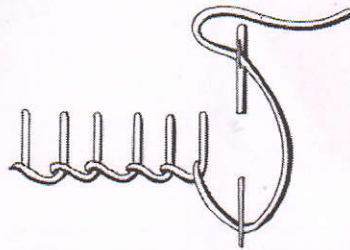
21. Какую мерку измеряют от седьмого шейного позвонка до линии талии? Напишите её условное обозначение.

- 18
- А) Длина спины до талии
  - Б) Длина плеча
  - В) Длина переда до талии
  - Г) Длина изделия

Ответ а дсм

22. Какой шов, предназначенный для ручной вышивки, представлен на рисунке?


- 18
- А) Шов вперед иголку;
  - Б) Стебельчатый шов;
  - В) Петельный шов;
  - Г) Тамбурный шов.




23. Какие изделия выполнены в технике узелкового батика?




А)



Б)



В)



Г)

24. К непроизводственным сферам деятельности человека относятся:

- 18
- А) Машиностроение
  - Б) Лесное хозяйство
  - В) Общественное питание
  - Г) Пассажирский транспорт
  - Д) Сельское хозяйство

25. Творческое задание

Вам предложены 3 фигуры девушки.

1. Предложите по одной модели блузки  
а) для спорта, б) для школы, в) для дискотеки
2. Выполните эскизы (в цвете) этих моделей.
3. Опишите внешний вид моделей по предложенной форме.
4. Рекомендуйте ткани (волокнистый состав) для каждой модели.





Модель блузки для спорта:

стиль спортивный

силуэт прямой

покрой рукава сleeveless

воротник \_\_\_\_\_

застежка \_\_\_\_\_

детали \_\_\_\_\_

отделка \_\_\_\_\_

цвет \_\_\_\_\_

Рекомендуемая ткань \_\_\_\_\_



Модель блузки для школы:

стиль школьный

силуэт прямой

покрой рукава прямой

воротник \_\_\_\_\_

застежка \_\_\_\_\_

детали \_\_\_\_\_

отделка \_\_\_\_\_

цвет \_\_\_\_\_

Рекомендуемая ткань \_\_\_\_\_



Модель блузки для дискотеки:

стиль диско-театральный

силуэт прилегающий

покрой рукава \_\_\_\_\_

воротник нет

застежка нет

детали \_\_\_\_\_

отделка декоративная

цвет зеленый

Рекомендуемая ткань шелк

48.