

АЗНАУР
Шукушев

45

прич

ВСЕРОССИЙСКАЯ ОЛИМПИАДА ШКОЛЬНИКОВ
ИСТОРИЯ. 2024–2025 уч. г. ШКОЛЬНЫЙ ЭТАП
6 КЛАСС

1. Выберите верные утверждения.

- 1) Фараоны в Древнем Египте считались сыновьями луны.
- 2) Понятие «царская дорога» относится к истории державы Ахеменидов.
- 3) Наставником и воспитателем Александра Македонского был философ Диоген.
- 4) На территории Причерноморья существовали норманнские колонии.
- 5) Последним императором Западной Римской империи был Ромул Августул.

05

Ответ: 1

За каждое верно выбранное/невыбранное утверждение – 1 балл.

Максимум за задание – 5 баллов.

2. Какие из представленных изображений относятся к крито-микенской культуре?


А



Б



В



Г



08

Ответ: Б

За каждое верно выбранное/невыбранное изображение – 1 балл.

Максимум за задание – 4 балла.

3. Выберите верную последовательность периодов истории Древнего Рима.

- А) Римский полис – Римский морской союз – Римская республика – Римская империя
 Б) Царский Рим – Римская республика – Принципат – Доминат
 В) Римская империя – Римская республика – Царский Рим
 Г) Восточная Римская империя – Западная Римская империя – Римская республика

08

Ответ: Б

Максимум за задание – 1 балл.

4. Установите соответствие между историческими деятелями и событиями, связанными с ними.

| Исторические деятели | События |
|-------------------------|--------------------------------------|
| 1) Диоклетиан | А) возобновление гонений на христиан |
| 2) Константин I Великий | Б) первое применение проскрипций |
| 3) Юлиан Отступник | В) сражение при мысе Акции |
| 4) Октавиан Август | Г) введение системы тетрархии |
| 5) Марк Лициний Красс | Д) миланский эдикт |
| 6) Луций Корнелий Сулла | Е) подавление восстания Спартака |

28

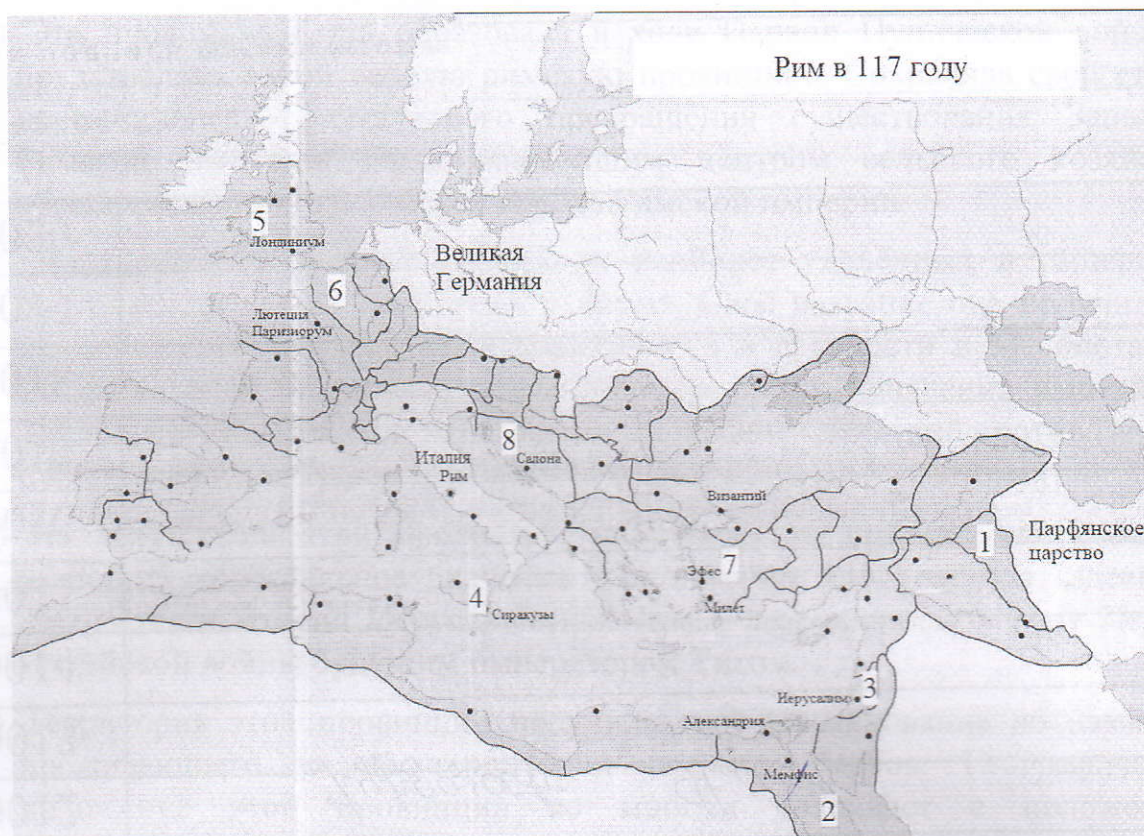
Ответ:

| 1 | 2 | 3 | 4 | 5 | 6 |
|---|----|---|---|---|---|
| Д | ББ | Е | В | А | Г |

За каждую верную пару – 2 балла.

Максимум за задание – 12 баллов.

5–8. Перед вами – карта Римской империи по состоянию на 117 год. Арабскими цифрами на ней обозначены римские провинции.



08 5. Укажите **ОДНИМ СЛОВОМ** название политической системы, которая существовала в Римской империи в момент её развития, отражённый на карте.

Ответ: _____.

Максимум за задание – 2 балла.

6. Выберите из приведённого ниже списка имя императора, который был правителем Римской империи на момент, отражённый на карте.

Септимий Север

Диоклетиан

Калигула

Октавиан Август

Феодосий I Великий

Траян

Нерон

Тиберий

08 Ответ: Феодосий I Великий.

Максимум за задание – 2 балла.

7. Сопоставьте номера обозначенных на карте провинций с посвящёнными

им текстами.

Тексты о провинциях

- А) Эта провинция была образована в ходе Первой Пунической войны и представляла собой первую римскую провинцию. Сохраняла свой статус провинции до фактического прекращения существования Западной Римской империи; была важнейшим центром сельского хозяйства, обеспечивающим италийские города Римской империи.
- Б) Эта провинция являлась одной из наиболее удалённых в империи и располагалась на её восточных рубежах. Своё название она получила от наименования государства, находившегося в древности в Месопотамии. Создание этой провинции приходится на время правления императора Траяна, который посредством успешных военных действий против Парфии смог закрепить за Римом этот сравнительно небольшой участок суши.
- В) На территории этой провинции на рубеже эр происходили события, имеющие колоссальное значение для истории христианства. Здесь же находился и Второй Иерусалимский Храм, разрушенный в ходе Первой Иудейской войны будущим императором Титом.
- Г) Территория этой провинции получила своё наименование по названию проживающего на её территории племени белгов. Географическое положение этой провинции во многом совпадает с положением современного государства, название которого, в свою очередь, происходит от названия этой провинции.
- Д) Эта провинция была образована в результате перехода под власть Рима территорий Пергамского царства. Долгое время она находилась как бы на периферии Римской империи; её расцвет связан с фактом переноса Константином I столицы империи в Византий, который находился неподалёку от этой провинции. Интересно и то, что название этой провинции стало впоследствии нарицательным: её именем стали называть одну из частей света.
- Е) Название этой провинции (с небольшими изменениями) и по сей день возможно обнаружить на географических картах практически на том же месте, где оно было некогда в составе Римской империи. Покорение этих территорий давалось римлянам весьма сложно; некоторые племена – среди них наиболее известными являются, вероятно, пикты – так и не были подчинены; для обороны от них римлянам приходилось строить протяжённые линии укреплений, среди которых наиболее известным является так называемый «Адрианов вал».
- Ж) Территория этой провинции вошла в состав Римской империи после поражения Марка Антония и Клеопатры в битве при мысе Акции в 30 году до н. э. и их последующей гибели. Тем самым в состав империи вошло одно из наиболее могущественных эллинистических государств;

его культура, уходящая корнями в глубокую древность, оказала значительное влияние на культуру Римской империи.

3) Эту провинцию от Италии отделяло лишь Адриатическое море. Название же этой провинции стало нарицательным для именованя территорий, входящих в состав современной Хорватии и Черногории.

Ответ:

| | | | | | | | |
|---|---|----|----|----|-----|------|------|
| Описание провинции, буква | I | VI | IX | XI | XII | XIII | VIII |
| Географическое положение провинции, цифра | ε | 3 | xc | 4 | 5 | β | 2 |

За каждую верную пару – 1 балл.

Максимум за задание – 8 баллов.

8. Сопоставьте названия провинций с посвящёнными им текстами. Обратите внимание на то, что в списке названий есть лишние варианты.

Названия провинций

- I. Египет
- II. Галлия
- III. Пафлагония
- IV. Азия
- V. Далмация
- VI. Ассирия
- VII. Сицилия
- VIII. Македония
- IX. Британия
- X. Иудея
- XI. Белгика
- XII. Каппадокия

Ответ:

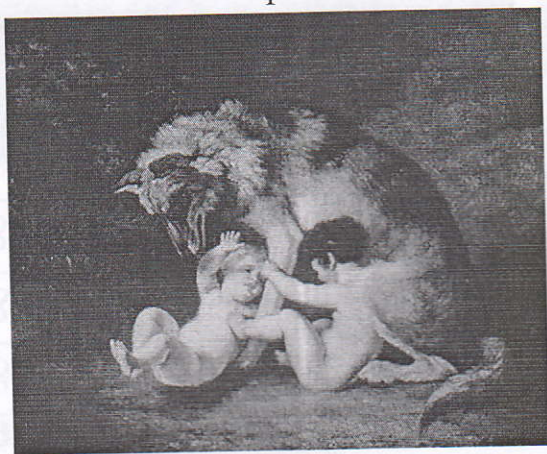
| | | | | | | | | |
|-----------------------------------|---|----|----|----|----|-----|------|----|
| Описание провинции, буква | I | VI | IX | XI | II | XII | VIII | IV |
| Название провинции, римская цифра | ε | 3 | xc | 4 | β | β | 2 | 9 |

За каждую верную пару – 1 балл.

Максимум за задание – 8 баллов.

9. Перед вами изображения, связанные с историческими и мифологическими событиями различных государств Древнего мира и Средних веков. Определите, события из истории и культуры каких стран на них изображены, и соотнесите эти картины с названиями государств.


1




2




3




4



5



6



7



8



28
Ответ:

| (А) Древний Рим | (Б) Древняя Греция | (В) Вавилонское царство | (Г) Византийская империя |
|-----------------|--------------------|-------------------------|--------------------------|
| 6, 7 | 3, 3 | 1, 8 | 2, 4 |

За каждую верную пару – 1 балл.

Максимум за задание – 8 баллов.

Максимум за работу – 50 баллов.